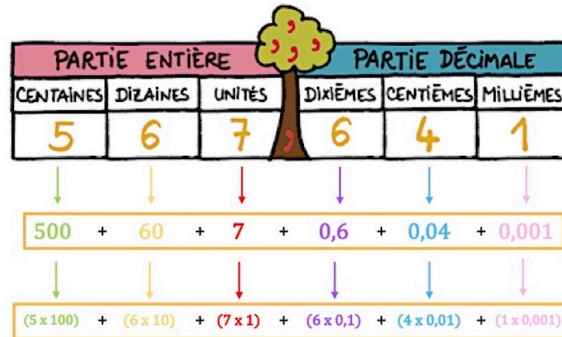


ATELIER DE NUMÉRATION

J'apprends à décomposer des nombres décimaux (1)

Consigne :

Reconstitue le puzzle en associant chaque nombre décimal à sa décomposition.






$3 + 0,1 + 0,04$	$20 + 5 + 0,8 + 0,07$	$100 + 2 + 0,3$	$900 + 80 + 7 + 0,6 + 0,05$
$10 + 2 + 0,7 + 0,06$	$300 + 20 + 3 + 0,1 + 0,01$	$70 + 8 + 0,09$	$1\ 000 + 700 + 60 + 3 + 0,2$
$900 + 40 + 4 + 0,7$	$60 + 3 + 0,3 + 0,03$	$100 + 10 + 1 + 0,4 + 0,02$	$2 + 0,9 + 0,07$

$8 + 0,9 + 0,03$	$1\ 000 + 2 + 0,04 + 0,009$	$20 + 1 + 0,7 + 0,06 + 0,005$	$30 + 2 + 0,3 + 0,07$
$100 + 40 + 8 + 0,2$	$20 + 9 + 0,03$	$2\ 000 + 800 + 20 + 7 + 0,1$	$100 + 80 + 6 + 0,6 + 0,05 + 0,007$
$20 + 2 + 0,7 + 0,07 + 0,003$	$800 + 50 + 4 + 0,3 + 0,02 + 0,004$	$10 + 7 + 0,2 + 0,001$	$300 + 60 + 7 + 0,08 + 0,009$

$10 + 1 + 0,2$	$0,1 + 0,07 + 0,008$	$50 + 6 + 0,3 + 0,03 + 0,003$	$20 + 9 + 0,3 + 0,007$
$1 + 0,7 + 0,07 + 0,005$	$200 + 30 + 9 + 0,8 + 0,004$	$3 + 0,2 + 0,01 + 0,005$	$0,07 + 0,008$
$20 + 2 + 0,4 + 0,03 + 0,001$	$8 + 0,1$	$0,1 + 0,02 + 0,003$	$3\ 000 + 200 + 70 + 2 + 0,03 + 0,005$

$2\ 000 + 300$ $+ 7 + 0,7 +$ $0,06 + 0,002$	$700 + 80 +$ $8 + 0,1 +$ $0,004$	$6\ 000 + 10$ $+ 2 + 0,2 +$ $0,005$	$1\ 000 + 100$ $+ 10 + 1 +$ $0,02 + 0,003$
$400 + 20 + 7$ $+ 0,3 + 0,01$ $+ 0,008$	$8\ 000 + 3 +$ $0,9 + 0,004$	$7\ 000 + 400$ $+ 10 + 9 +$ $0,05 + 0,002$	$20 + 0,3 +$ $0,03 +$ $0,001$
$900 + 90 + 8$ $+ 0,2 + 0,04$ $+ 0,003$	$300 + 50 + 2$ $+ 0,5 + 0,03$ $+ 0,005$	$20 + 7 + 0,4$ $+ 0,05 +$ $0,001$	$30 + 7 + 0,6$ $+ 0,02 +$ $0,006$



À découper