

ATELIER DE GÉOMÉTRIE

J'apprends à décomposer des figures complexes (1)

Consigne

Inscris le nombre de figures simples qui composent chaque figure complexe.

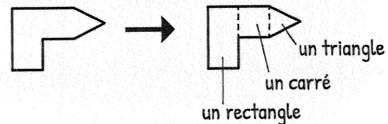
Aide

Définition d'une figure complexe

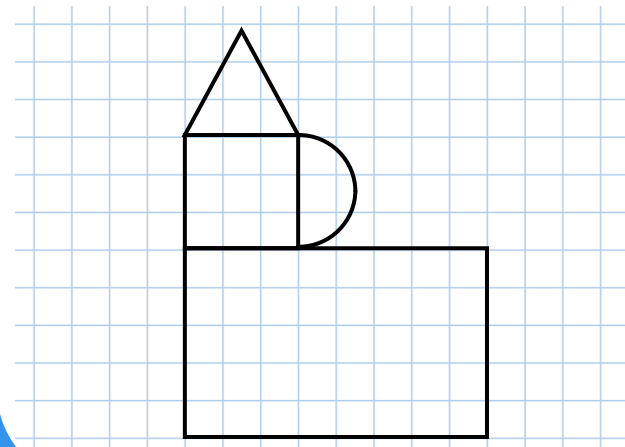
Assemblage de différentes figures géométriques simples (triangle, carré, rectangle, cercle...).

Décomposer une figure complexe

C'est repérer les figures simples qui composent la figure complexe.

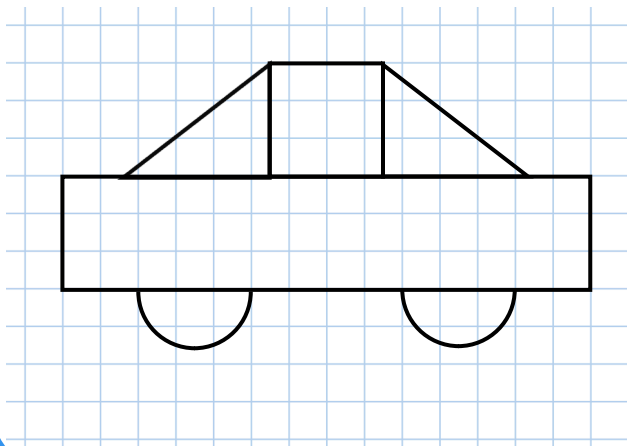


Inscris le nombre de figures simples qui composent cette figure complexe.



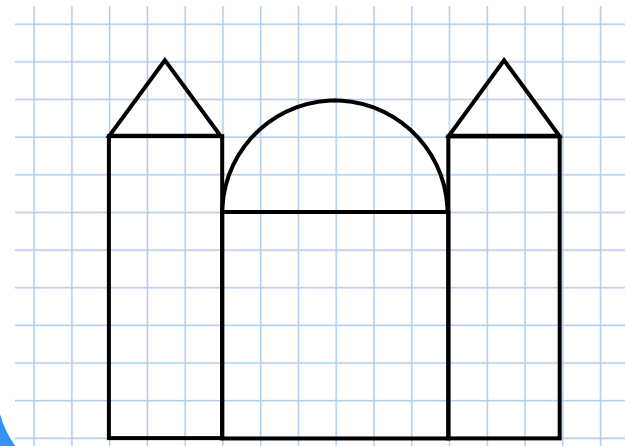
- carré
- triangle
- rectangle
- cercle
- losange
- demi-cercle

Inscris le nombre de figures simples qui composent cette figure complexe.



- carré
- triangle
- rectangle
- cercle
- losange
- parallélogramme

Inscris le nombre de figures simples qui composent cette figure complexe.



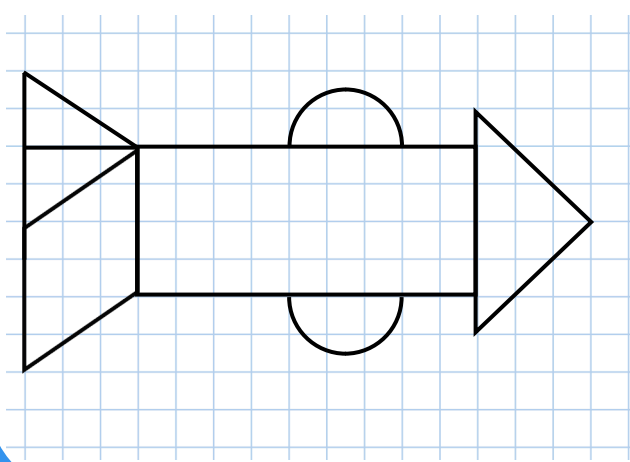
- carré
- triangle
- rectangle
- cercle
- losange
- demi-cercle

2 triangles
2 rectangles
1 carré
1 demi-cercle

1 carré
1 triangle
1 rectangle
1 demi-cercle

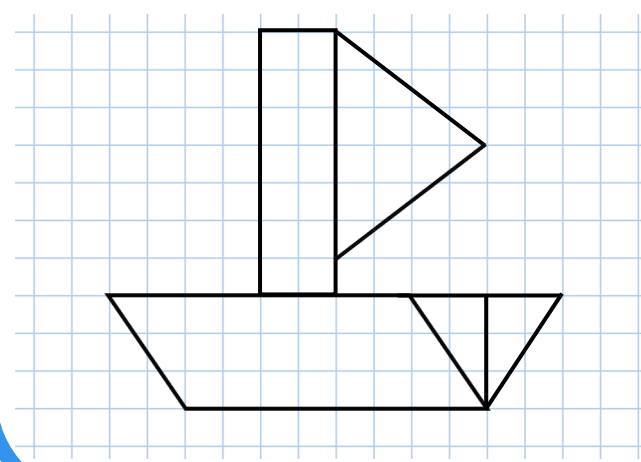
1 carré
2 triangles
1 rectangle
2 demi-cercles

Inscris le nombre de figures simples qui composent cette figure complexe.



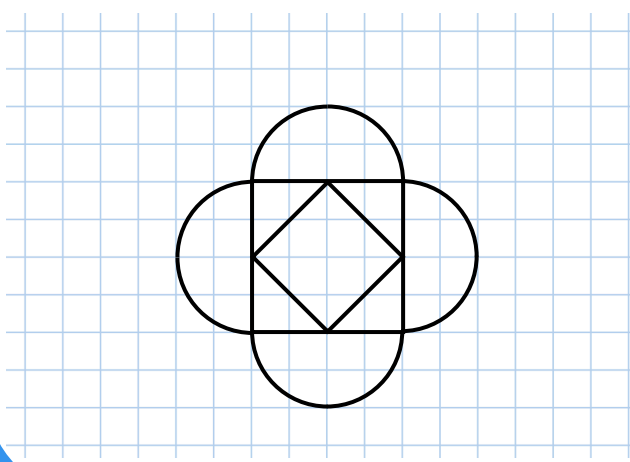
- carré
- triangle
- rectangle
- parallélogramme
- losange
- demi-cercle

Inscris le nombre de figures simples qui composent cette figure complexe.



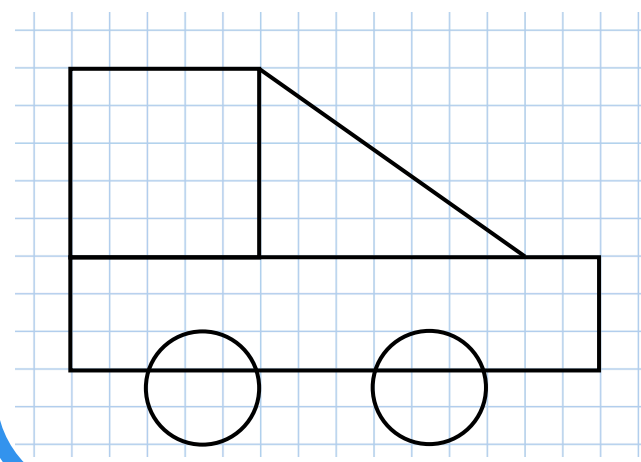
- carré
- triangle
- rectangle
- demi-cercle
- losange
- parallélogramme

Inscris le nombre de figures simples qui composent cette figure complexe.



- carré
- triangle
- rectangle
- demi-cercle
- losange
- parallélogramme

Inscris le nombre de figures simples qui composent cette figure complexe.



- carré
- triangle
- rectangle
- cercle
- losange
- parallélogramme

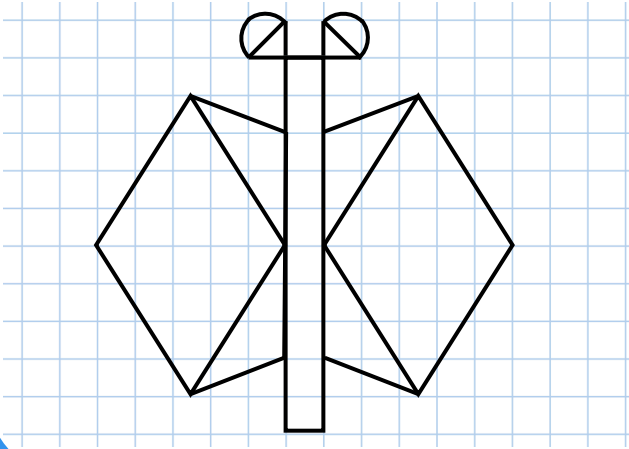
1 carré
1 triangle
1 rectangle
2 cercles

1 rectangle
3 triangles
1 parallélogramme

2 carrés
4 demi-cercles

3 triangles
1 parallélogramme
1 rectangle
2 demi-cercles

Inscris le nombre de figures simples qui
composent cette figure complexe.



- carré
- triangle
- rectangle
- cercle
- losange
- demi-cercle

6 triangles
2 losanges
1 rectangle
2 demi-cercles