

ATELIER DE MESURES

J'apprends à convertir des masses (1)

Consigne

Relie les mesures de masse qui sont égales.

Aide



Relie les mesures de masse qui sont égales. ①

1 267 mg

8,73 g

554,1 kg

0,1267 dag

873 cg

0,01 kg

100 dg

5,541 q

Relie les mesures de masse qui sont égales. ②

3,18 hg

1 000 kg

74,901 g

23 900 dag

1 t

318 g

239 kg

74 901 mg

Relie les mesures de masse qui sont égales. ③

22,47 t

72,42 dg

247,2 cg

224,7 q

7,242 dag

0,7242 hg

7 242 mg

2,472 g

Relie les mesures de masse qui sont égales. ④

388,76 g

3 876 kg

76,3 mg

388,7 kg

3,876 t

0,763 dg

3,887 q

38,876 dag

Relie les mesures de masse qui sont égales. ⑤

4 392 kg

0,3942 dag

3,492 q

43,92 q

394,2 cg

49,32 g

0,4932 hg

349,2 kg

Relie les mesures de masse qui sont égales. ⑥

1,145 hg

0,01154 dag

115,4 kg

114,5 g

1 155 mg

1,154 q

11,54 cg

11,55 dg

Relie les mesures de masse qui sont égales. ⑦

5 783 kg

578,3 cg

57,84 q

0,5873 g

587,3 mg

5,783 t

5,783 g

57 840 hg

Relie les mesures de masse qui sont égales. ⑧

90,31 kg

903 100 dg

903,1 t

90,31 mg

9,031 cg

91 310 g

9 131 dag

9 031 q

Relie les mesures de masse qui sont égales. ⑨

3 278 mg

4,45 g

190,07 kg

0,3278 dag

445 cg

0,0641 kg

641 dg

1,9007 q

Relie les mesures de masse qui sont égales. ⑩

7,74 hg

3 000 kg

32,156 g

38 900 dag

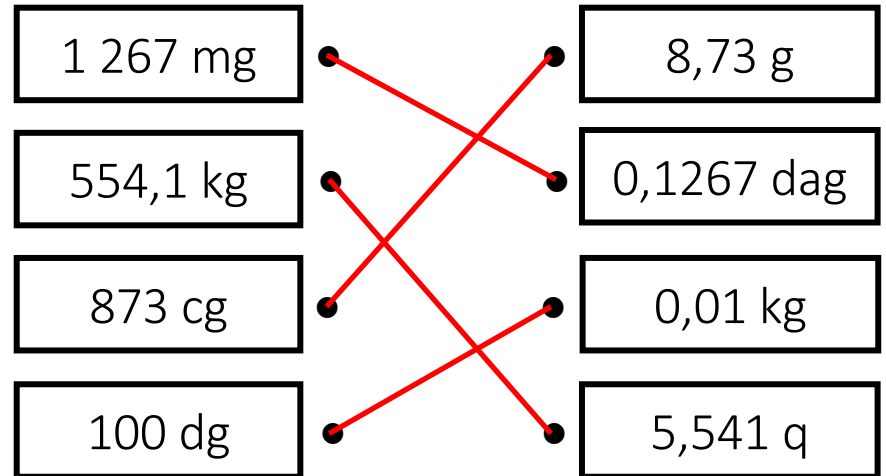
3 t

774 g

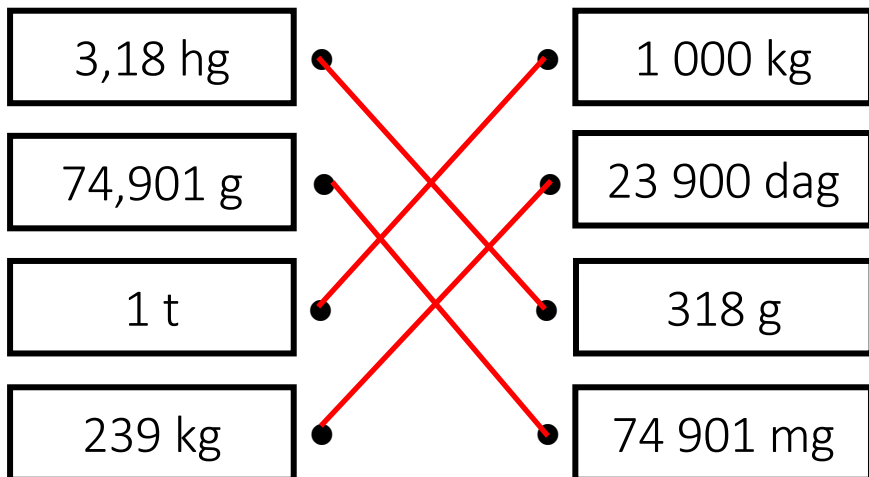
389 kg

32 156 mg

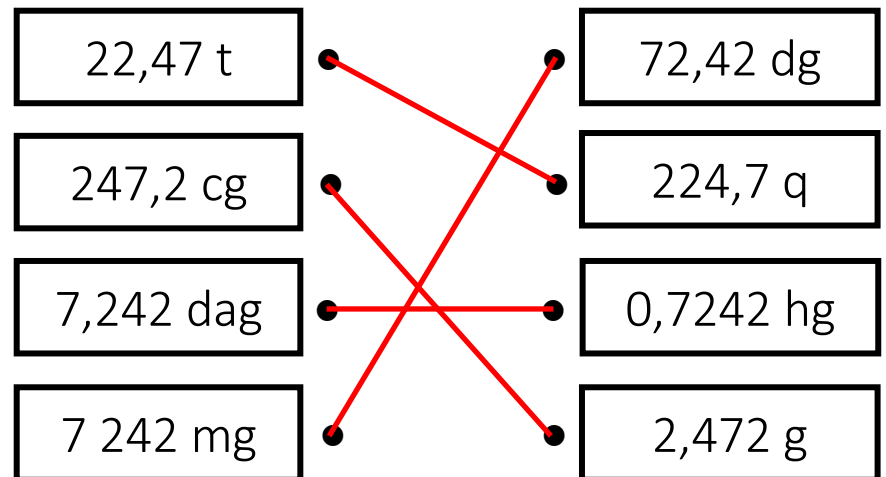
Relie les mesures de masse qui sont égales. ①



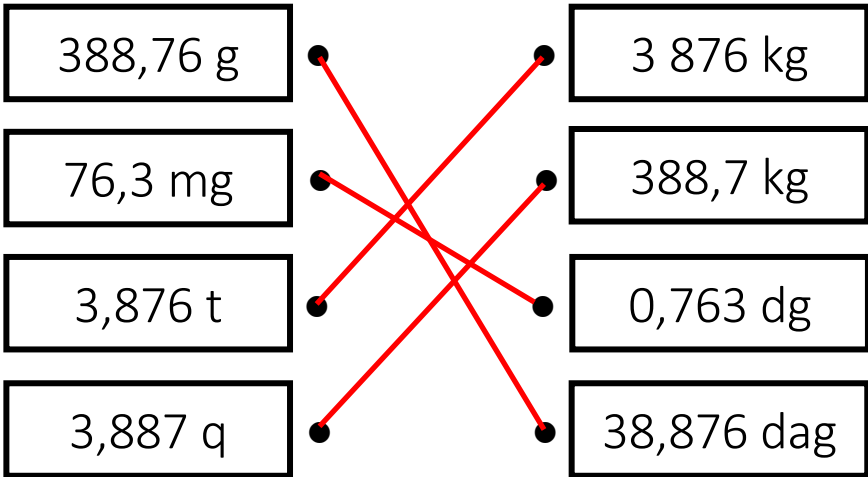
Relie les mesures de masse qui sont égales. ②



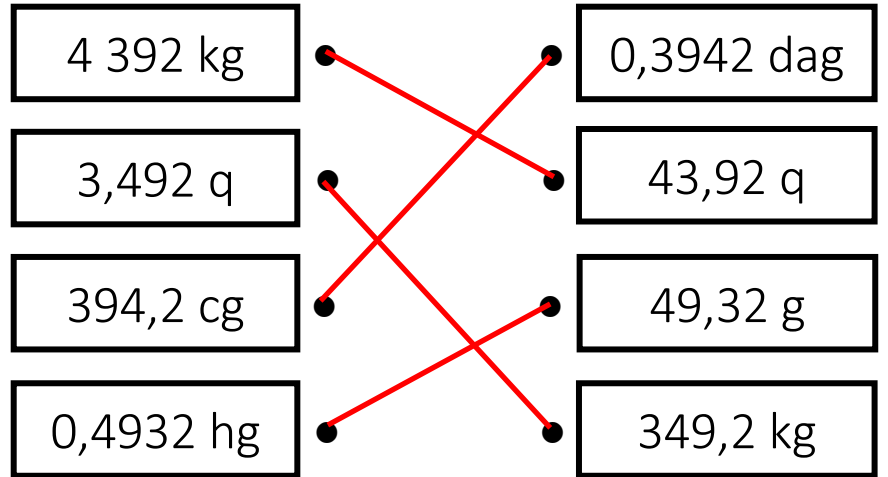
Relie les mesures de masse qui sont égales. ③



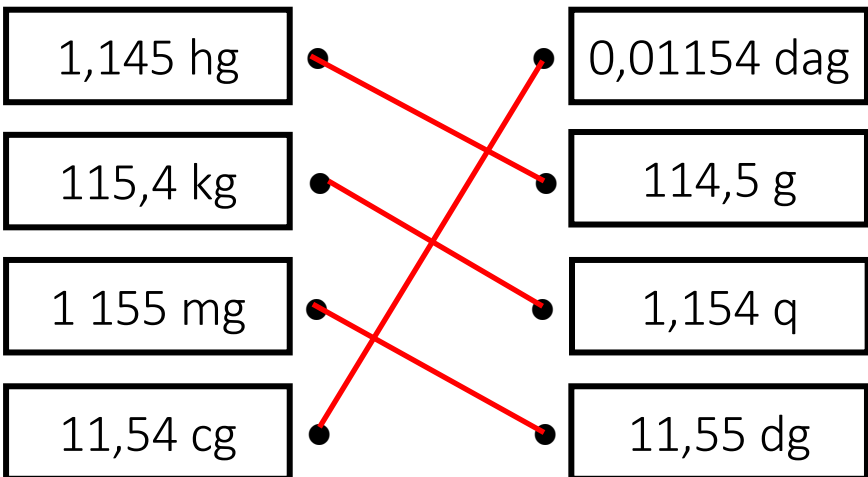
Relie les mesures de masse qui sont égales. ④



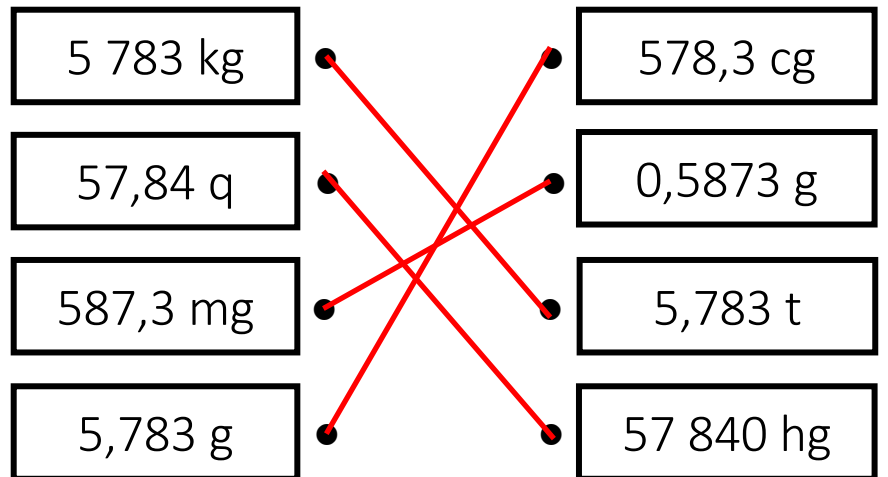
Relie les mesures de masse qui sont égales. ⑤



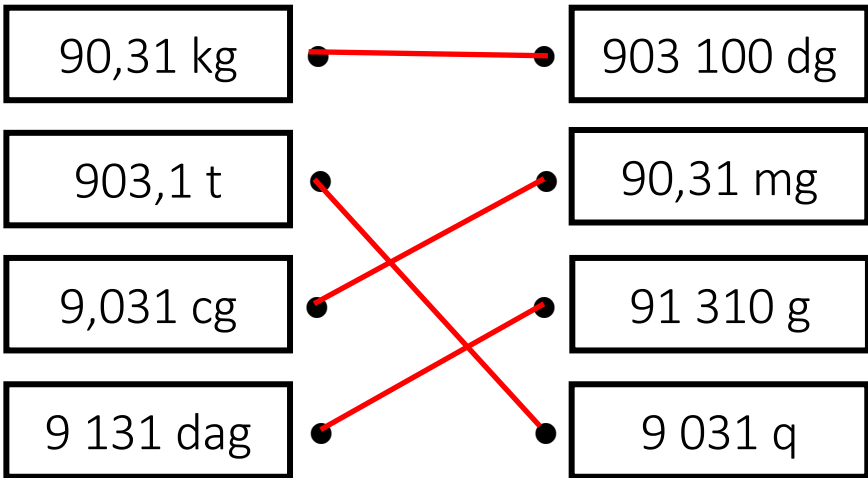
Relie les mesures de masse qui sont égales. ⑥



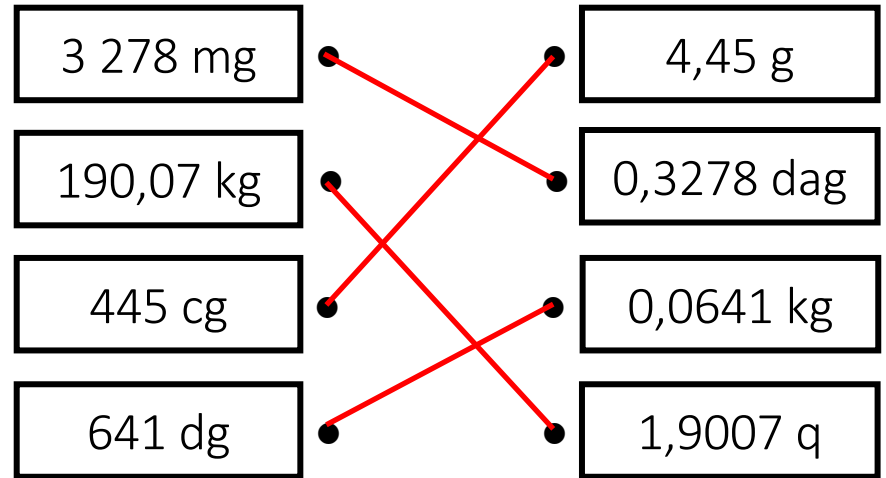
Relie les mesures de masse qui sont égales. ⑦



Relie les mesures de masse qui sont égales. ⑧



Relie les mesures de masse qui sont égales. ⑨



Relie les mesures de masse qui sont égales. ⑩

