

ATELIER DE MESURES

J'apprends à déterminer la valeur des périmètres

Consigne : Trouve le périmètre de chaque polygone en unités de longueur (u).

Aide

Je fais le tour de mon potager.

C'est la **LONGUEUR DU CONTOUR** d'une figure géométrique

ASTUCE! Imagine que tu fais le tour de la figure à pied, à vélo...

DÉPART

10 km, 15 km, 7 km

$P = 10 + 15 + 7 = 32 \text{ km}$

Trouve le périmètre de chaque polygone en unités de longueur (u).

16 u

28 u

18 u

Trouve le périmètre de chaque polygone en unités de longueur (u).

10 u

8 u

14 u

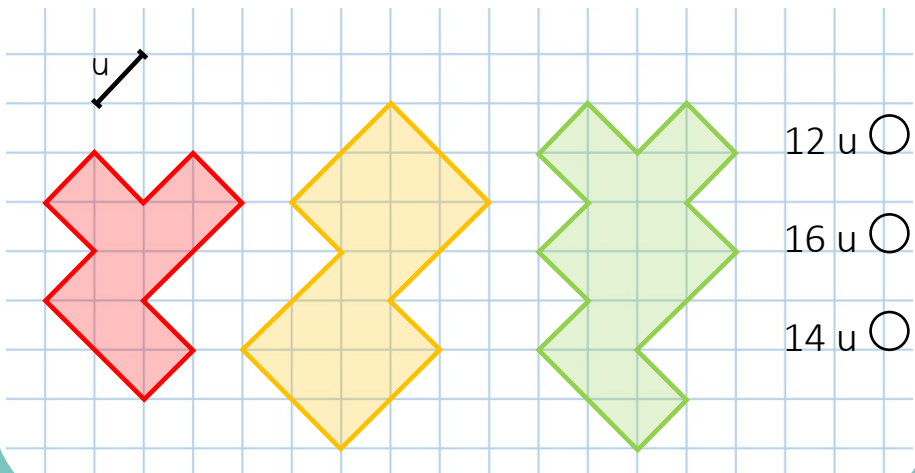
Trouve le périmètre de chaque polygone en unités de longueur (u).

24 u


22 u

16 u


Trouve le périmètre de chaque polygone en unités de longueur (u).




Trouve le périmètre de chaque polygone en unités de longueur (u).



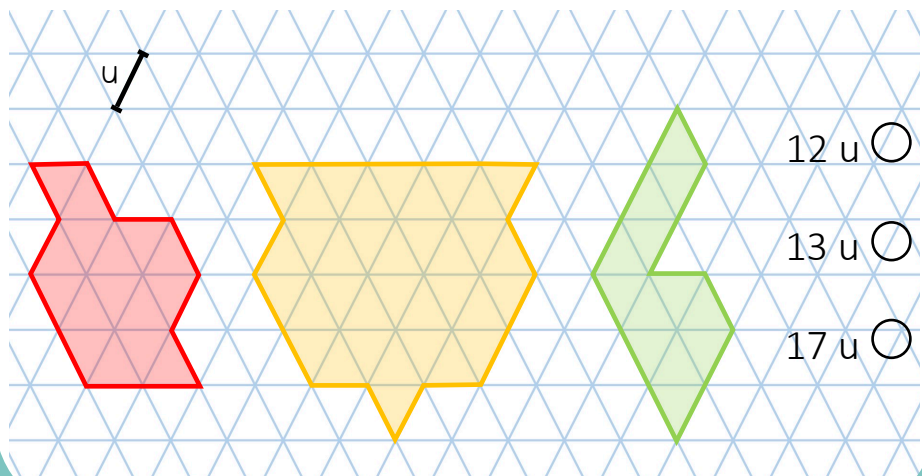
Trouve le périmètre de chaque polygone en unités de longueur (u).



Trouve le périmètre de chaque polygone en unités de longueur (u).



Trouve le périmètre de chaque polygone en unités de longueur (u).



12 u

13 u

17 u