

ATELIER DE MESURES

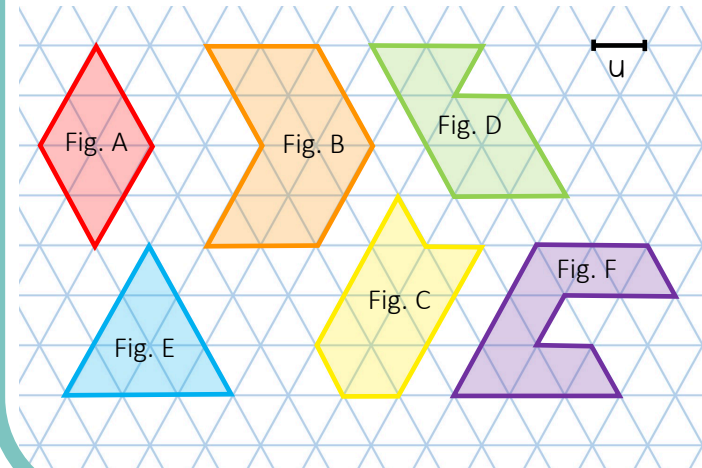
J'apprends à comparer des périmètres

Consigne : Range les polygones dans l'ordre croissant ou décroissant de leur périmètre.

Aide

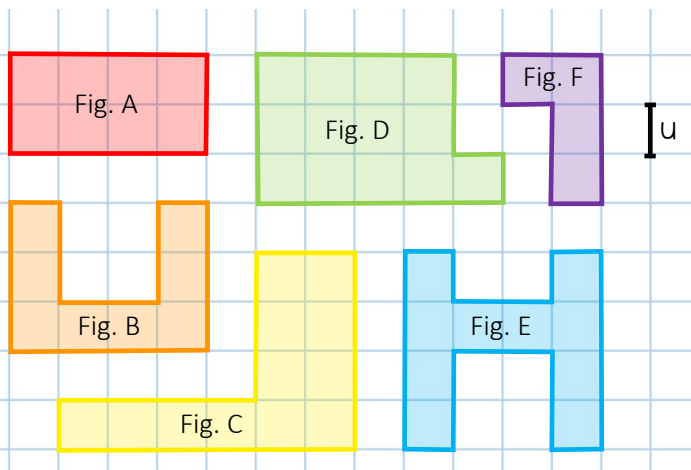


Range les polygones dans l'ordre croissant de leur périmètre.



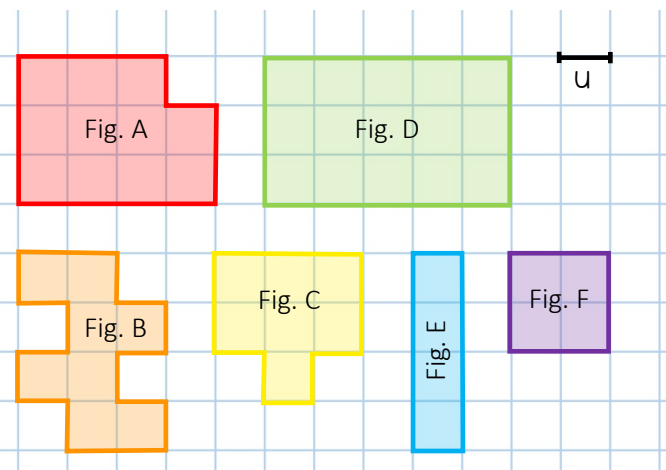
- Fig. ①
- Fig. ②
- Fig. ③
- Fig. ④
- Fig. ⑤
- Fig. ⑥

Range les polygones dans l'ordre croissant de leur périmètre.



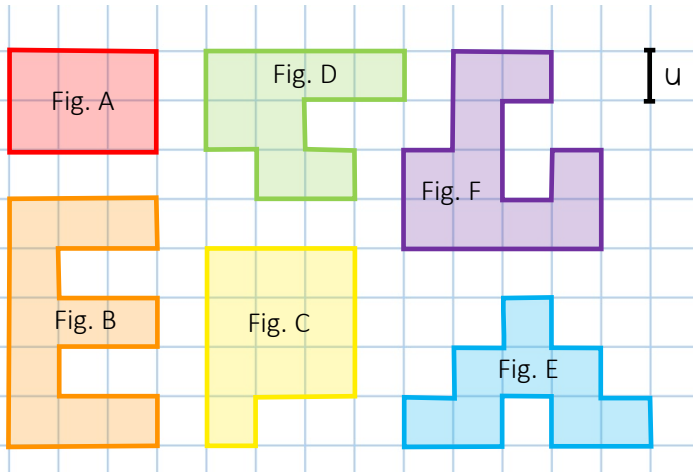
- Fig. ①
- Fig. ②
- Fig. ③
- Fig. ④
- Fig. ⑤
- Fig. ⑥

Range les polygones dans l'ordre décroissant de leur périmètre.



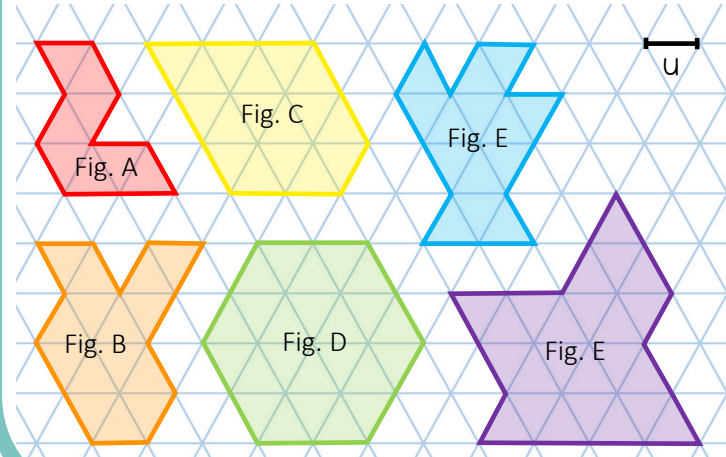
- Fig. ①
- Fig. ②
- Fig. ③
- Fig. ④
- Fig. ⑤
- Fig. ⑥

Range les polygones dans l'ordre croissant de leur périmètre.



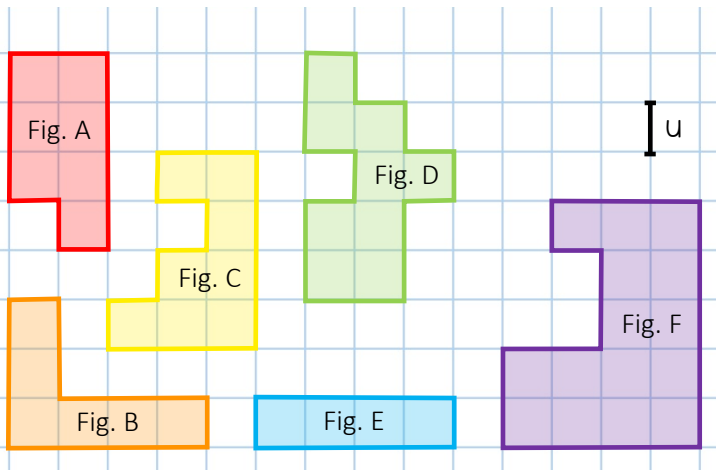
- Fig. ①
- Fig. ②
- Fig. ③
- Fig. ④
- Fig. ⑤
- Fig. ⑥

Range les polygones dans l'ordre croissant de leur périmètre.



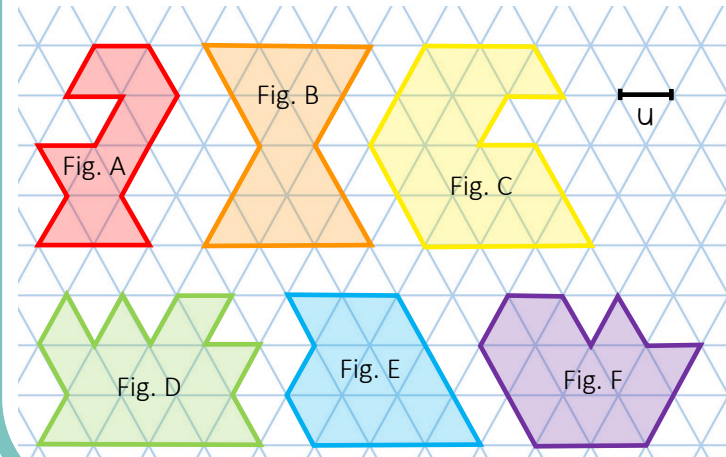
- Fig. ①
- Fig. ②
- Fig. ③
- Fig. ④
- Fig. ⑤
- Fig. ⑥

Range les polygones dans l'ordre décroissant de leur périmètre.



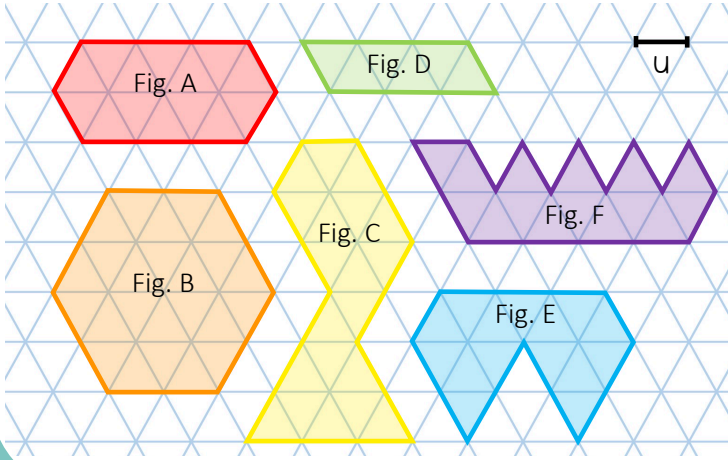
- Fig. ①
- Fig. ②
- Fig. ③
- Fig. ④
- Fig. ⑤
- Fig. ⑥

Range les polygones dans l'ordre décroissant de leur périmètre.



- Fig. ①
- Fig. ②
- Fig. ③
- Fig. ④
- Fig. ⑤
- Fig. ⑥

Range les polygones dans l'ordre décroissant de leur périmètre.



- Fig. ①
- Fig. ②
- Fig. ③
- Fig. ④
- Fig. ⑤
- Fig. ⑥