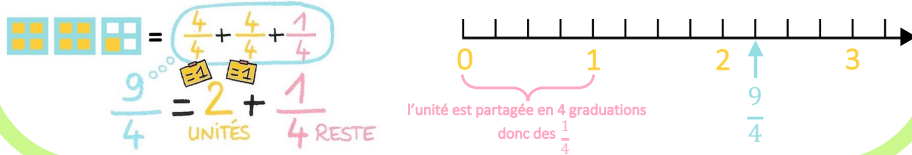


ATELIER DE NUMÉRATION

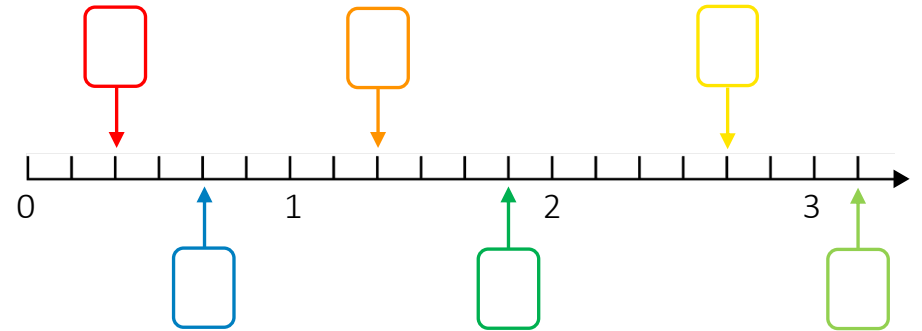
J'apprends à placer des fractions sur une demi-droite graduée (1)

Consigne : Retrouve à quelle fraction correspond chaque flèche.

Pour placer une fraction sur une demi-droite graduée, je peux la représenter ou la décomposer :



Retrouve à quelle fraction correspond chaque flèche.



$$\frac{8}{6}$$

$$\frac{11}{6}$$

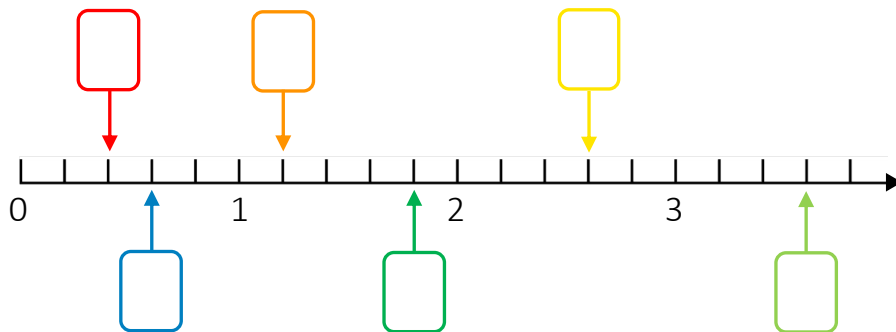
$$\frac{2}{6}$$

$$\frac{19}{6}$$

$$\frac{4}{6}$$

$$\frac{16}{6}$$

Retrouve à quelle fraction correspond chaque flèche.



$$\frac{6}{5}$$

$$\frac{3}{5}$$

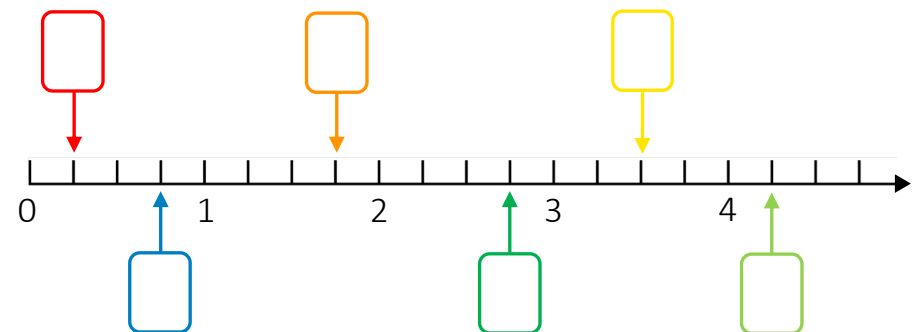
$$\frac{9}{5}$$

$$\frac{13}{5}$$

$$\frac{2}{5}$$

$$\frac{18}{5}$$

Retrouve à quelle fraction correspond chaque flèche.



$$\frac{17}{4}$$

$$\frac{1}{4}$$

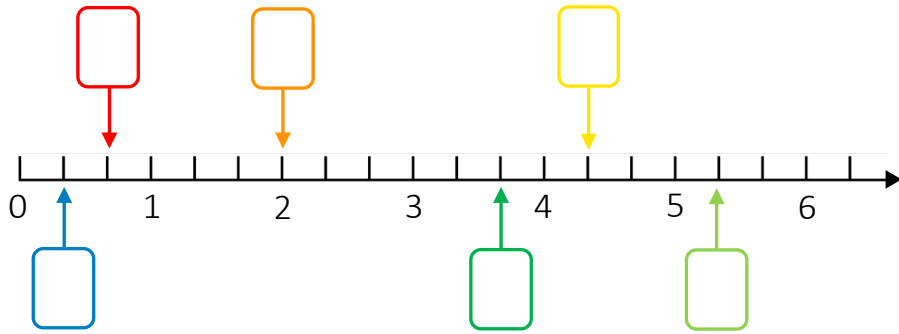
$$\frac{7}{4}$$

$$\frac{11}{4}$$

$$\frac{3}{4}$$

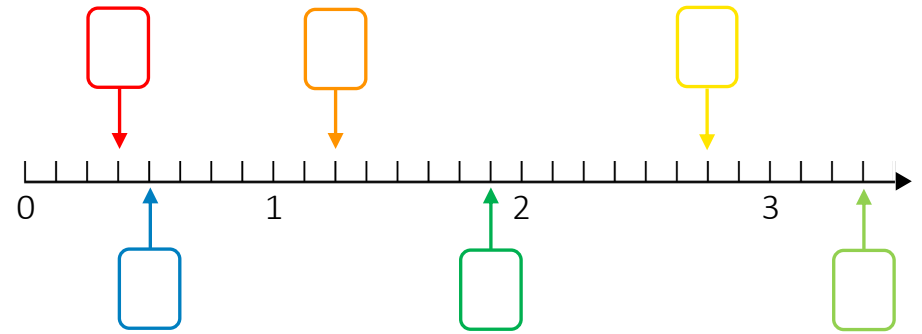
$$\frac{14}{4}$$

Retrouve à quelle fraction correspond chaque flèche.



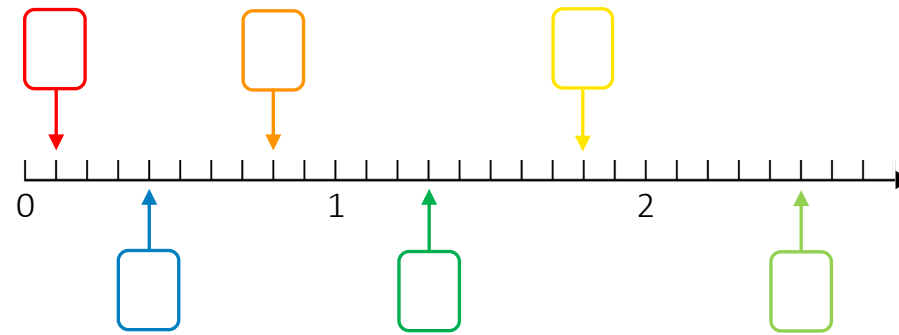
- | | | | | | |
|---------------|----------------|---------------|----------------|---------------|----------------|
| $\frac{1}{3}$ | $\frac{16}{3}$ | $\frac{2}{3}$ | $\frac{13}{3}$ | $\frac{6}{3}$ | $\frac{11}{3}$ |
|---------------|----------------|---------------|----------------|---------------|----------------|

Retrouve à quelle fraction correspond chaque flèche.



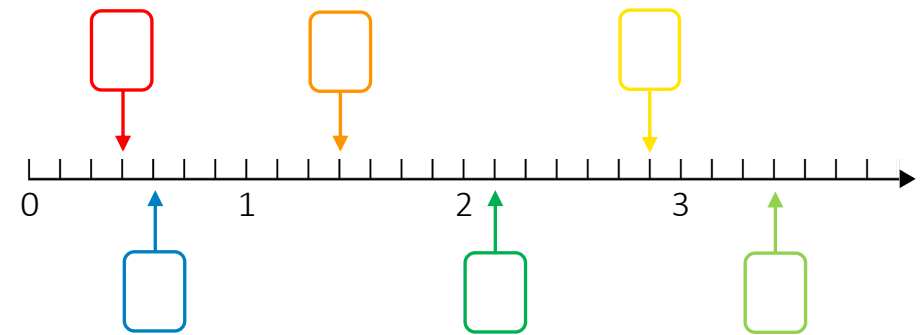
- | | | | | | |
|---------------|----------------|---------------|----------------|----------------|----------------|
| $\frac{4}{8}$ | $\frac{22}{8}$ | $\frac{3}{8}$ | $\frac{27}{8}$ | $\frac{10}{8}$ | $\frac{15}{8}$ |
|---------------|----------------|---------------|----------------|----------------|----------------|

Retrouve à quelle fraction correspond chaque flèche.



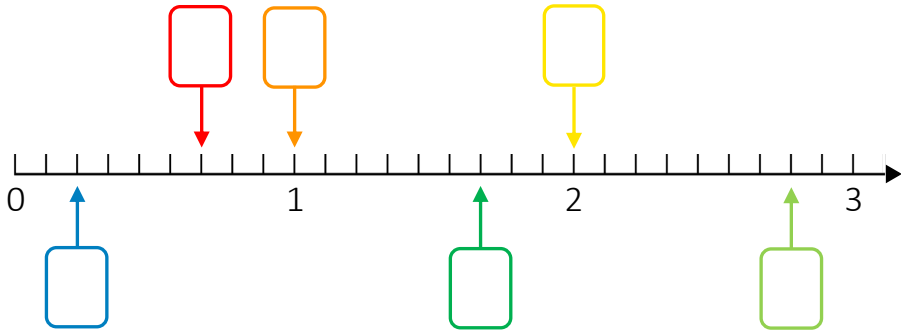
- | | | | | | |
|----------------|-----------------|-----------------|-----------------|----------------|----------------|
| $\frac{4}{10}$ | $\frac{13}{10}$ | $\frac{18}{10}$ | $\frac{25}{10}$ | $\frac{8}{10}$ | $\frac{1}{10}$ |
|----------------|-----------------|-----------------|-----------------|----------------|----------------|

Retrouve à quelle fraction correspond chaque flèche.



- | | | | | | |
|----------------|----------------|---------------|----------------|---------------|----------------|
| $\frac{20}{7}$ | $\frac{24}{7}$ | $\frac{4}{7}$ | $\frac{10}{7}$ | $\frac{3}{7}$ | $\frac{15}{7}$ |
|----------------|----------------|---------------|----------------|---------------|----------------|

Retrouve à quelle fraction correspond chaque flèche.



$$\frac{9}{9}$$

$$\frac{15}{9}$$

$$\frac{6}{9}$$

$$\frac{18}{9}$$

$$\frac{2}{9}$$

$$\frac{25}{9}$$