


# ATELIER DE GÉOMÉTRIE

J'apprends à identifier et nommer des triangles particuliers (1)

**Consigne :** À l'aide d'une pince, nomme chaque triangle après en avoir étudié les propriétés.

<p><b>TRIANGLE RECTANGLE</b></p> <p>Triangle ABC rectangle en C</p> <p><b>PROPRIÉTÉ</b></p> <ul style="list-style-type: none"> <li>* 1 angle droit</li> </ul>	<p><b>TRIANGLE ISOCÈLE</b></p> <p>Triangle ABC isocèle en A</p> <p><b>PROPRIÉTÉS</b></p> <ul style="list-style-type: none"> <li>* 2 côtés égaux</li> <li>* 2 angles égaux</li> </ul>	<p><b>TRIANGLE ÉQUILATÉRAL</b></p> <p>Triangle ABC équilatéral</p> <p><b>PROPRIÉTÉS</b></p> <ul style="list-style-type: none"> <li>* 3 côtés égaux</li> <li>* 3 angles égaux</li> </ul>	<p><b>TRIANGLE QUELCONQUE</b></p> <p>Triangle ABC quelconque</p> <p><b>PROPRIÉTÉS</b></p> <ul style="list-style-type: none"> <li>* AUCUNE particularité</li> <li>* angle droit</li> <li>* côtés égaux</li> </ul>
---	--	---	--

À l'aide des pincettes, nomme chaque triangle coloré.



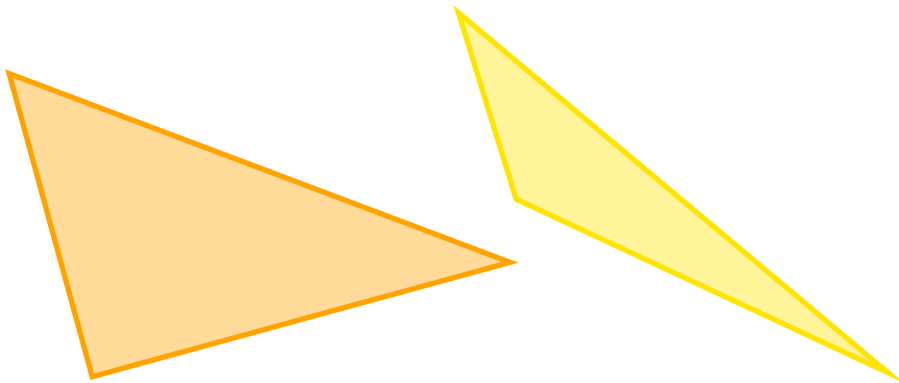
triangle rectangle

triangle équilatéral

triangle isocèle

triangle quelconque

À l'aide des pincettes, nomme chaque triangle coloré.




triangle rectangle

triangle équilatéral

triangle isocèle

triangle quelconque

À l'aide des pincettes, nomme chaque triangle coloré.



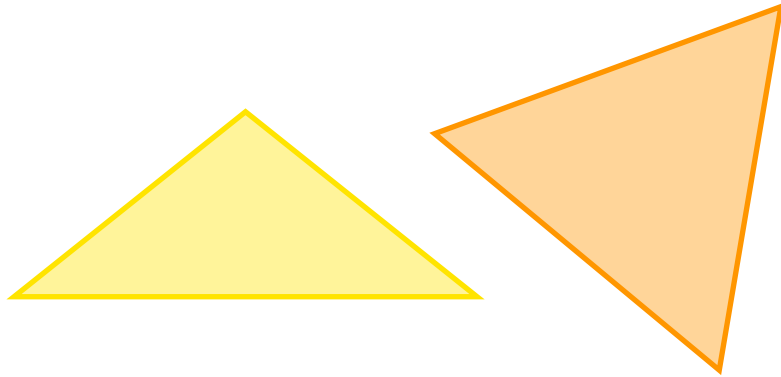
triangle rectangle

triangle équilatéral

triangle isocèle

triangle quelconque

À l'aide des pinces, nomme chaque triangle coloré.




triangle  
rectangle

triangle  
équilatéral

triangle  
isocèle

triangle  
quelconque

À l'aide des pinces, nomme chaque triangle coloré.




triangle  
rectangle

triangle  
équilatéral

triangle  
isocèle

triangle  
quelconque

À l'aide des pinces, nomme chaque triangle coloré.




triangle  
rectangle

triangle  
équilatéral

triangle  
isocèle

triangle  
quelconque

À l'aide des pinces, nomme chaque triangle coloré.




triangle  
rectangle

triangle  
équilatéral

triangle  
isocèle

triangle  
quelconque

À l'aide des pinces, nomme chaque triangle coloré.




triangle  
rectangle

triangle  
équilatéral

triangle  
isocèle

triangle  
quelconque

À l'aide des pinces, nomme chaque triangle coloré.



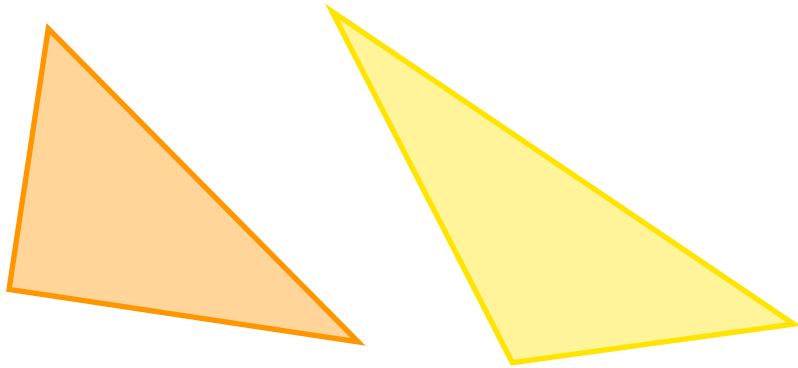
triangle  
rectangle

triangle  
équilatéral

triangle  
isocèle

triangle  
quelconque

À l'aide des pinces, nomme chaque triangle coloré.



triangle  
rectangle

triangle  
équilatéral

triangle  
isocèle

triangle  
quelconque