

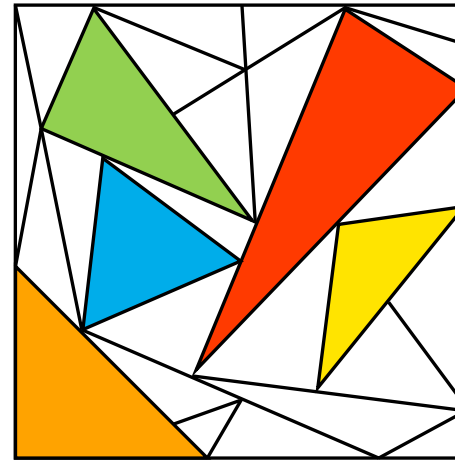
ATELIER DE GÉOMÉTRIE

J'apprends à identifier et nommer des triangles particuliers (2)

Consigne : À l'aide des pinces, nomme chaque triangle coloré après en avoir étudié les propriétés.

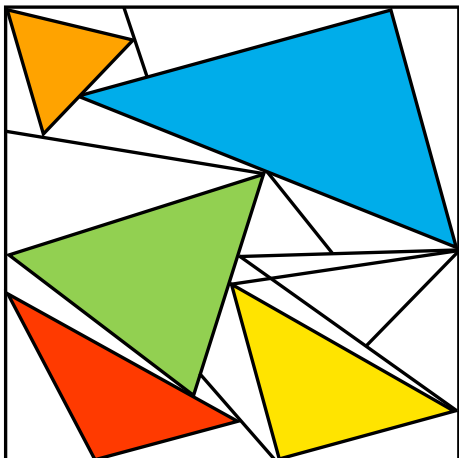
| | | | |
|--|---|--|---|
| <p>TRIANGLE RECTANGLE</p> <p>Triangle ABC rectangle en C</p> <p>PROPRIÉTÉ</p> <ul style="list-style-type: none"> * 1 angle droit | <p>TRIANGLE ISOCÈLE</p> <p>Triangle ABC isocèle en A</p> <p>PROPRIÉTÉS</p> <ul style="list-style-type: none"> * 2 côtés égaux * 2 angles égaux | <p>TRIANGLE ÉQUILATÉRAL</p> <p>Triangle ABC équilatéral</p> <p>PROPRIÉTÉS</p> <ul style="list-style-type: none"> * 3 côtés égaux * 3 angles égaux | <p>TRIANGLE QUELCONQUE</p> <p>Triangle ABC quelconque</p> <p>PROPRIÉTÉS</p> <ul style="list-style-type: none"> * AUCUNE particularité * angle droit * côtés égaux |
|--|---|--|---|

À l'aide des pinces, nomme chaque triangle coloré.



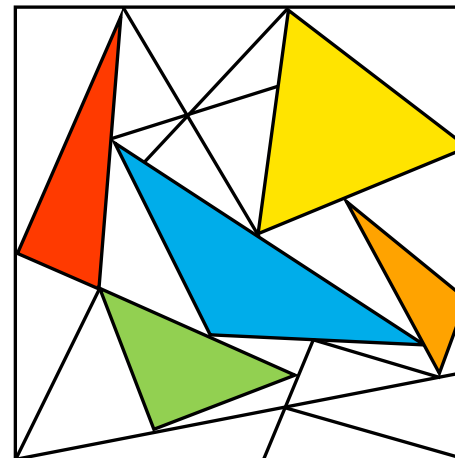
- triangle quelconque
- triangle équilatéral
- triangle isocèle
- triangle rectangle
- triangle rectangle isocèle

À l'aide des pinces, nomme chaque triangle coloré.



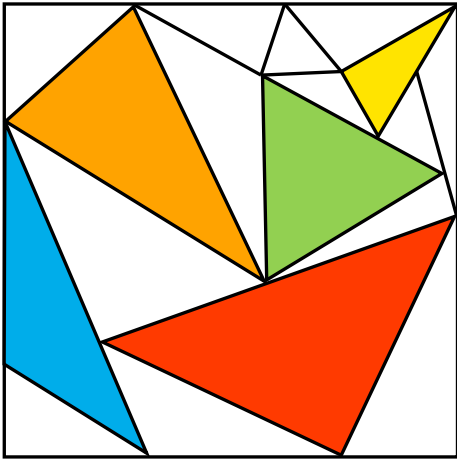
- triangle quelconque
- triangle équilatéral
- triangle isocèle
- triangle rectangle
- triangle rectangle isocèle

À l'aide des pinces, nomme chaque triangle coloré.



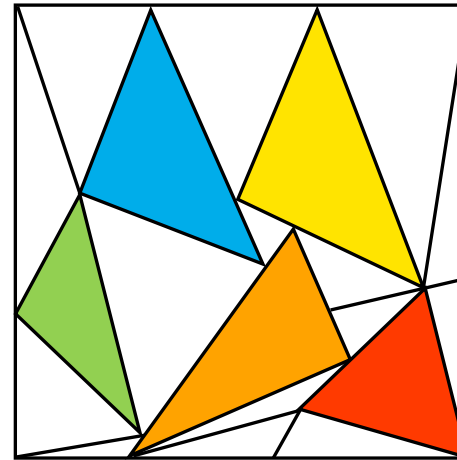
- triangle quelconque
- triangle équilatéral
- triangle isocèle
- triangle rectangle
- triangle rectangle isocèle

À l'aide des pinces, nomme chaque triangle coloré.



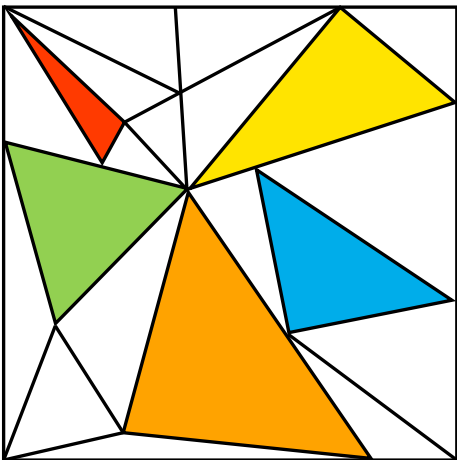
- triangle quelconque
- triangle équilatéral
- triangle isocèle
- triangle rectangle
- triangle rectangle isocèle

À l'aide des pinces, nomme chaque triangle coloré.



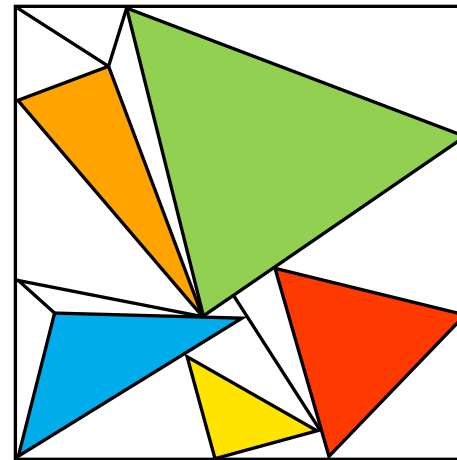
- triangle quelconque
- triangle équilatéral
- triangle isocèle
- triangle rectangle
- triangle rectangle isocèle

À l'aide des pinces, nomme chaque triangle coloré.



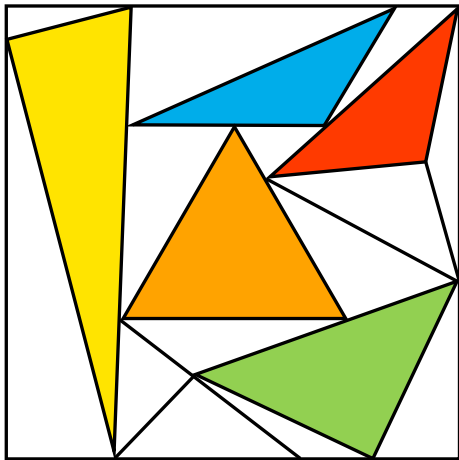
- triangle quelconque
- triangle équilatéral
- triangle isocèle
- triangle rectangle
- triangle rectangle isocèle

À l'aide des pinces, nomme chaque triangle coloré.



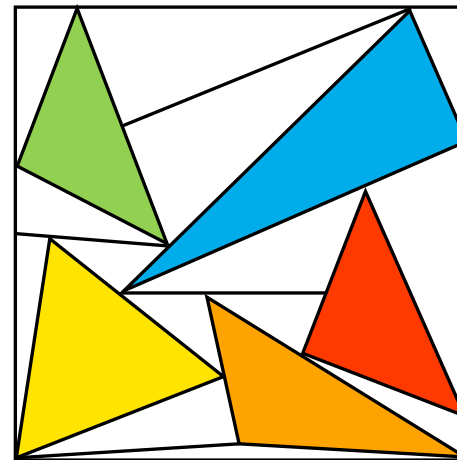
- triangle quelconque
- triangle équilatéral
- triangle isocèle
- triangle rectangle
- triangle rectangle isocèle

À l'aide des pinces, nomme chaque triangle coloré.




- triangle quelconque
- triangle équilatéral
- triangle isocèle
- triangle rectangle
- triangle rectangle isocèle

À l'aide des pinces, nomme chaque triangle coloré.



- triangle quelconque
- triangle équilatéral
- triangle isocèle
- triangle rectangle
- triangle rectangle isocèle

À l'aide des pinces, nomme chaque triangle coloré.



- triangle quelconque
- triangle équilatéral
- triangle isocèle
- triangle rectangle
- triangle rectangle isocèle